

TÜRKÇE

1.

I. Balkondaki güzel çiçeklere hayran kaldık.	II. Kendime güzel bir kitap aldım.
III. Bu güzel duygularınıza katılıyorum.	IV. Güzel kentimizi temiz turalım.

GÜZEL

"Güzel" sözcüğü, yukarıda numaralanmış cümlelerin hangisinde beş duyumuzla algılayamadığımız (soyut) bir kavramı nitelemektedir?

- A) I B) II C) III D) IV

2. Aşağıdaki cümlelerin hangisinde "soğuk" sözcüğü ötekilerden farklı anlamda kullanılmıştır?

- A) Önerilerimizi çok soğuk karşıladı.
B) Bu çeşmeden soğuk sular akardı.
C) Soğuk süttten yoğurt yapılmaz.
D) Terliyen soğuk bir şey içme.

3.

		Z

Bu tabloya sesteş sözcükler soldan sağa, yukarıdan aşağıya ve aşağıdan yukarıya yerleştirilecektir.

Bu tabloya sesteş sözcükler yerleştirildiğinde tablonun görünümünü aşağıdakilerden hangisi olabilir?

A)

		B
		U
K	A	Z
		A
		M

B)

		K
		A
Y	A	Z
		A
		T

C)

		Y
		A
K	I	Z
		U
		M

D)

		Y
		A
K	A	Z
		I
		K

4.

I. Kuşlar bu yıl erken göçtüler.

II. Aramızdaki sorunu çözmeliyiz.

III. Gurbete gidersen kıymetimizi anlarsın.

IV. Annesini görür görmez ayağa kalktı.

Yukarıdaki numaralanmış cümlelerin hangisinde eylemin gerçekleşmesi koşula bağlanmıştır?

- A) I B) II C) III D) IV

6.

En önemli dersler, kitaplardan değil deneyimlerimizden elde edilir.

Bu cümlede aşağıdakilerden hangisinin önemi üzerinde durulmuştur?

- A) hayatın
B) zamanı kullanmanın
C) öğüt dinlemenin
D) tecrübelerin



5. **Aşağıdakilerin hangisinde bir yazım yanlışı vardır?**

- A) Yeni kanun dün TBMM'den çıkmış.
B) Üç sene sonra LGS'ye girecekmiş.
C) Amcası da MEB'nda öğretmenmiş.
D) ODTÜ'de okumak en büyük hayalimiş.

7. **Aşağıdaki cümlelerin hangisinde "karşılaştırma" yapılmıştır?**

- A) Yazarın ilk kitabını okuyamadım.
B) Eski şairlerin şiirlerini daha çok seviyorum.
C) Bahçedeki çiçekleri soldürmüşsünüz.
D) Evi temizledikten sonra telefon açtı.

8. İsveç'teki Göteborg Üniversitesinden bir grup bilim insanı tarafından alerji ve çocuklar üzerine bazı çalışmalar yapıldı. Bunun sonucunda çok sayıda evcil hayvan bulunan bir ortamda yaşayan çocuklarda, alerjik solunum yolu ve cilt hastalıkları görülme oranının düşük olduğu belirlendi.

Bu parçada sözü edilen araştırmayla ilgili olarak aşağıdakilerden hangisi çıkarılamaz?

- A) Evcil hayvanların hastalığa neden olup olmadığının incelendiği
- B) Bir üniversitedeki bilim adamlarınca gerçekleştirildiği
- C) Solunum yolu ve cilt hastalıkları üzerine yoğunlaştığı
- D) Yürütülmesi için büyük paralar harcandığı

9.



Gönlüm ne dertlidir ne de bahtiyar,
Ne kendisine yar ne kimseye yar,
Bir rüya uğrunda ben diyar diyar,
Gölgemin peşinde yürür giderim.

Bu dördlüğün şairi için aşağıdakilerden hangisi söylenemez?

- A) Bir hayalinin olduğu
- B) İnsanlardan beklentisinin olduğu
- C) Özgür ve kendine göre bir hayat yaşadığı
- D) Duygularının peşinde sürüklendiği

10. Dayımın da bir an önce çözmesi gereken () hep önünde duran iki önemli derdi vardı () okul ve askerlik ()



Elif

Bu parçada ayraçla () belirtilen yerlere aşağıdakilerden hangileri sırasıyla getirilmelidir?

- A) (;) (,) (...)
- B) (,) (;) (...)
- C) (,) (;) (.)
- D) (;) (;) (.)

11. Şu hayal dediğimiz şey ne tatlı ve ne muhteşemdir. Mavi kanatlarıyla gelir, günlerimizi renklendirir. Her şeyi daha güzel, daha yumuşak, yaşatabilmek için gönlümüze girer. Başarır da bunu. Hayalimiz işledikçe dünyayı daha çekici bulur, günlere biraz daha istekle sarılırız.

Bu parçadan "hayal" ile ilgili olarak aşağıdakilerden hangisine ulaşamaz?


- A) İnsanları yanlış tutum içine soktuğuna
- B) Olumlu yönlerinin olduğuna
- C) İnsana mutluluk verdiğine
- D) İnsanlara umut kazandırdığına

12.




Bu görsellerden hangisi olumsuz bir tepki olarak yorumlanmamalıdır?


A)




B)



C)



D)



13.

İnsanların çok güçlü bir savunma sistemi var. Bunun güçlü kaslar olduğunu düşünüyor olabilirsiniz. Ama tam olarak öyle değil. Bizi tehlikelerden koruyan en önemli organımız beynimiz. Örneğin bir kayanın arkasında bir aslan mı yoksa bir ceylan mı olduğunu bilmiyorsak beynimiz bizi en kötü duruma karşı hazırlıyor. Yani otomatik olarak orada bir aslan olduğunu düşünüyoruz.

Bu parçada anlatılmak istenen aşağıdakilerden hangisidir?

- A) İnsanın en tehlikeliyi hesap ederek güçlü bir savunma kurduğu
- B) Bedensel olarak en güçlü varlığın insan olduğu
- C) Aslanlarla ceylanların arasında avcı ve av ilişkisi olduğu
- D) İnsanın elleriyle tehlikelerden korunmak için alet yapabileceği

14.

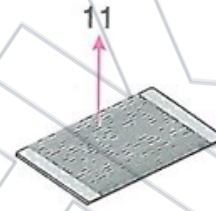
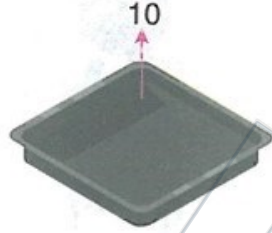
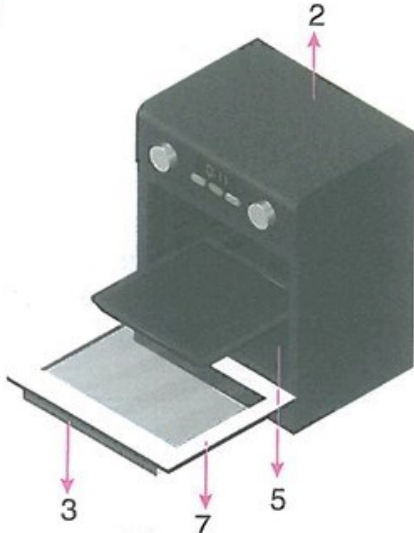


Yalnız biz değiliz seni seven
Bak, ne kadar üzülüyor gidişine
Şu çiçekten çiçeğe konan kelebek.
Baharı erken getir bahçemize
Olmaz mı güzel leylek?

Şiire göre, leylek için aşağıdakilerden hangisi söylenemez?

- A) Göçmen bir kuş olduğu
- B) Herkes tarafından sevildiği
- C) Baharın habercisi olduğu
- D) Çiçeklerle beslendiği

15.



1. Kumanda Paneli
2. Fırın Gövdesi
3. Kulp
4. Kazan
5. Isıtıcılar
6. Fırın Ayakları
7. Fırın Cam Kapağı
8. Kumanda Düğmeleri
9. Yuvarlak Tepsisi
10. Kare Tepsisi
11. Tel Izgara

Bir kullanım kılavuzundan alınmış bölümden hareketle bu ürünle ilgili olarak aşağıdaki çocuklardan hangisinin verdiği bilgiye ulaşamaz?



Genel yapısı ortaya konmuştur



Parçaları tanıtılmaktadır.



Bütünü değerlendirmek mümkündür.



Elektrik gücü ve tüketimi bilinebilir.

MATEMATİK


1.



Boş ağırlığı 3 ton olan bu kamyonun kasisına her biri 200 kilogram olan varillerden en fazla kaç tane yüklenebilir?

- A) 73 B) 74 C) 75 D) 76

2.



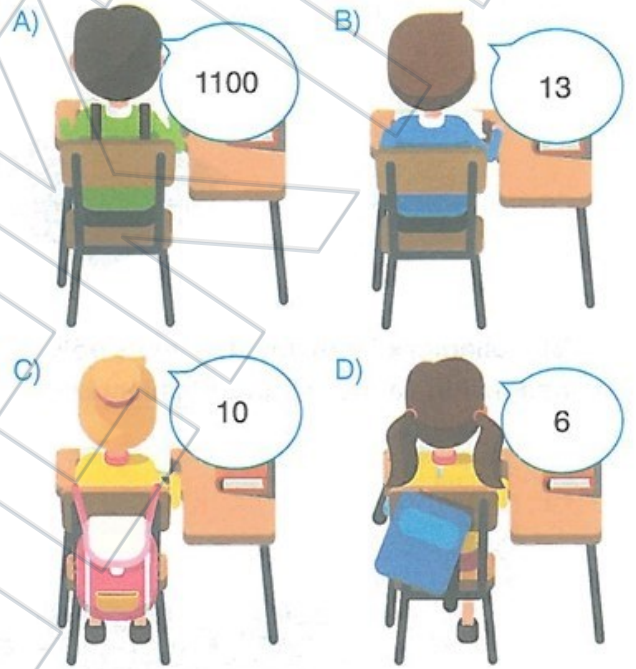
Yukarıda verilen çarpma işleminin sonucu kaçtır?

- A) 4788 B) 4388
C) 4204 D) 4104

3.



21136 sayısının birler bölümündeki rakamların toplamı kaçtır?



4. Rakamları birbirinden farklı 4 basamaklı en büyük tek doğal sayı ile rakamları birbirinden farklı dört basamaklı en küçük doğal sayının toplamı kaçtır?

- A) 10898 B) 10899
C) 11898 D) 11899

5. Bir dar açı ile bir geniş açının toplamı 170° olduğuna göre dar açı en fazla kaç derecedir?

- A) 59 B) 69
C) 79 D) 80

6. Bir sayının $\frac{2}{5}$ 'i ile $\frac{1}{5}$ 'nin toplamı 72'dir.

Buna göre bu sayının $\frac{1}{6}$ 'sı kaçtır?

- A) 20 B) 24 C) 28 D) 36

7.

8	16	32	64	128	
---	----	----	----	-----	--

Yukarıdaki örüntüde boş kalan kutucuğa hangi sayı gelmelidir?

- A) 240 B) 252
C) 256 D) 258

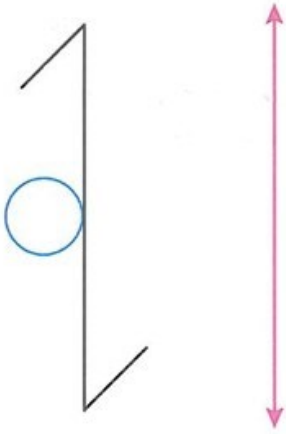
8.



Anne, baba ve 3 çocuğun yaşları toplamı 101'dir. Kaç yıl sonra yaşları toplamı 116 olur?

- A) 15 B) 8 C) 5 D) 3

9.



Yukarıdaki şeklin, kırmızı ile gösterilen simetri doğrusuna göre simetriği aşağıdakilerden hangisidir?

A)



B)



C)



D)



10.



Bir bölme işleminde bölen 12 ve bölüm de bölenin 3 katının 5 fazlasıdır.

Bölünen sayı en fazla kaç olabilir?

A) 513

B) 503

C) 493

D) 492

11. Ayşegül saat 13.40'da film izlemeye başlamıştır. Filmin yarısında 15 dakikalık bir ara verilmiştir. Film bittiğinde saatine bakan Ayşegül saatin 15.43 olduğunu görmüştür.

Buna göre Ayşegül'ün izlediği filme ara verilmeseydi ne kadar sürerdi?

A) 1 saat 48 dakika

B) 1 saat 52 dakika

C) 1 saat 56 dakika

D) 2 saat 3 dakika

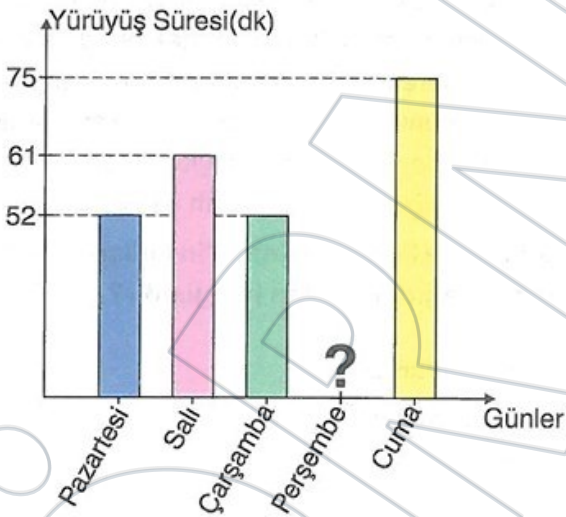
12.



Aşağıdakilerden hangisi milimetre cinsinden bir insanın boyunun uzunluğu olamaz ?

- A) 820 mm B) 1700 mm
C) 13000 mm D) 1000 mm

13.



Yukarıda Ali'nin bir hafta içi yürüyüş yaptığı süre-
lere ait grafik verilmiştir.

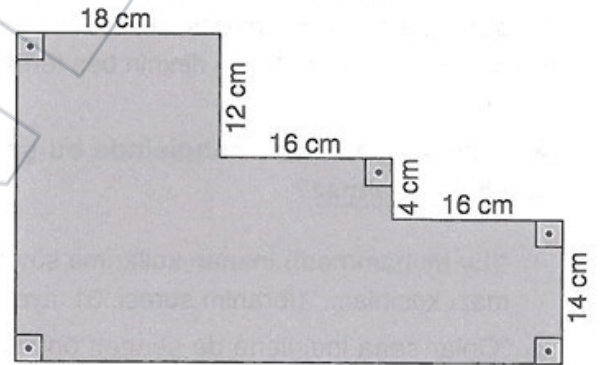
Ali'nin 5 gün boyunca yürüyüş yaptığı toplam
süre 5 saat 7 dakika olduğuna göre, perşem-
be günü yürüyüş yaptığı süre kaç dakikadır?

- A) 57 B) 67 C) 75 D) 80

14. Yüzler basamağına yuvarlandığında 2500 olan
en büyük sayı ile onlar basamağına yuvarlan-
dığında 1260 olan en küçük sayının toplamı
kaçtır?

- A) 3804 B) 3809
C) 3795 D) 3794

15.



Yukarıda verilen şeklin çevresi kaç cm'dir?

- A) 140 B) 150 C) 160 D) 170

DİN KÜLTÜRÜ ve AHLAK BİLGİSİ

1. Dünya hayatı insanın ölümüyle son bulan geçici bir hayattır. İnsanlar bu dünyada yaptıklarının karşılığını ahiret hayatında alırlar. Bu yüzden insanların bu dünyada söz, fiil ve davranışlarına dikkat etmeleri ve yaptıklarının, söylediklerinin bir karşılığının olduğu bilinciyle hareket etmesi gerekir. İslam'ın ahiret inancı, Müslümanların dünya hayatında tavır, davranış ve sözlerine dikkat etmelerini gerektirir.

Aşağıdakilerden hangisi bu parçada anlatılanları en iyi şekilde ifade etmektedir?

- A) Sakla samanı gelir zamanı.
- B) El ile gelen düğün bayram.
- C) Ne ekersen onu biçersin.
- D) Dost, kara günde belli olur.

2. İslam, Allah tarafından son peygamber Hz. Muhammed'e (s.a.v) bildirilerek insanlığa gönderilen son ilahi dindir. İslam dinini kabul eden kişiye Müslüman adı verilir. İslam dininin beş temel şartı bulunur.

Aşağıdaki ayetlerden hangisinde bu şartlardan biri yer almaz?

- A) "(Ey Muhammed!) İnanan kullarıma söyle, namazı kılsınlar..." (İbrahim suresi, 31. ayet)
- B) "Onlar sana indirilene de senden önce indirilenlere de inanırlar. Ahirete de kesin olarak inanırlar." (Bakara suresi, 4. ayet)
- C) "Ey iman edenler! Oruç, sizden önce gelip geçmiş ümmetlere farz kılındığı gibi size de farz kılındı. Umulur ki korunursunuz." (Bakara suresi, 183. ayet)
- D) "Orada apaçık nişaneler, (ayrıca) İbrahim'in makamı vardır. Oraya giren emniyette olur. Yoluna gücü yetenlerin o evi haccetmesi, Allah'ın insanlar üzerinde bir hakkıdır..." (Âl-i İmrân suresi, 97. ayet)

3. "Kovulmuş şeytanın şerrinden, kötülüğünden Allah'a sığınırım."

Bu ifade günlük hayatta aşağıdaki kelimelerden hangisi ile dile getirilir?

- A) "Eûzübillâhi mineşşeytânirracîm."
- B) "Elhâmdülillâhi rabbi'l-âlemin."
- C) "Bismillâhirrahmânirrahîm."
- D) "Selâmünaleyküm"

4. Metin, bir hafta sonra arkadaşı Kemal'i ziyaret etmek üzere Bolu'ya gitmeyi planladı ve bu planından Kemal'i de haberdar etmek istedi. Kemal'e telefon ederek önümüzdeki hafta Bolu'ya gelmeyi düşündüğünü "Allah izin verirse" anlamına gelen dini bir ifadeyi kullanarak söyledi. Kemal, Metin'e çok sevindiğini söyleyip "Allah izin verirse" dedi.

Buna göre Metin ile Kemal'in kullandıkları dini ifade aşağıdakilerden hangisidir?

- A) Elhamdülillah
- B) Estağfirullah
- C) Sübhanallah
- D) İnşallah

5. İslam dini, Müslümanların akrabalarıyla bağlarını korumalarını ister ve akrabalarıyla bağların koparılmasını da yasaklar. Bu yüzden Müslümanlar dini gün ve bayramlar başta olmak üzere çeşitli zaman dilimlerinde eş, dost ve akrabalarını arar, ziyaret eder ve onlarla ilişkilerini sürdürür.

Bu parçada anlatılanlara aşağıdaki isimlerden hangisi verilir?

- A) Sıla-i rahim B) Üsve-i hasene
C) Hatemü'l enbiya D) Mahkeme-i Kübra

6. Hz. Muhammed (s.a.v) daha doğmadan babasını, altı yaşına geldiğinde de annesini kaybetmiştir. Annesini kaybettikten sonra sekiz yaşına kadar dedesinin yanında kalmış ve onun sevgisiyle yetişmiştir. Ancak dedesi birkaç yıl sonra vefat etmiş ve Hz. Muhammed'in (s.a.v) bakımını amcalarından biri üstlenmiştir.

Bu parçada anlatılan Peygamberimizin amcası aşağıdakilerden hangisidir?

- A) Ebu Leheb B) Ebu Talip
C) Zübeyr D) Abbas

7. Kutsal kitabımız Kur'an-ı Kerim'de güzel ahlak ilkelerini konu alan, insanlara güzel ahlaklı olmayı öğütleyen birçok ayet yer almaktadır.

Buna göre aşağıdaki ayetlerden hangisi bu parçada anlatılan öğütlerden biri değildir?

- A) "Allah'a ibadet edin ve ona hiçbir şeyi ortak koşmayın. Ana-babaya, akrabaya, yetimlere, yoksullara, yakın komşuya, uzak komşuya, yanınızdaki arkadaşına, yolcuya, elinizin altındakilere iyilik edin. Şüphesiz, Allah kibirlenen ve övünen kimseleri sevmez." (Nisâ suresi, 36. ayet)
- B) "Ey iman edenler! Zannın çoğundan sakının, zira zannın bir kısmı günahdır. Birbirinizin suçunu araştırmayın; kimse kimseyi çekiştirmesin; hangi biriniz ölü kardeşinin etini yemekten hoşlanırsa? Ondan tiksiniyorsunuz; Allah'tan sakının..." (Hucurât suresi, 12. ayet)
- C) "(Ey Muhammed!) Peygamberlerin haberlerinden, kendileriyle senin kalbini pekiştirdiğimiz her bir haberi sana aktarıyoruz. Bunlarda sana hak, müminlere de bir öğüt ve hatırlatma gelmiştir." (Hûd suresi, 120. ayet)
- D) "Öyle ise emrolunduğun gibi dosdoğru ol. Beraberindeki tövbe edenler de dosdoğru olsunlar. Hak ve adalet ölçülerini aşmayın. Şüphesiz O (Allah) yaptıklarınızı hakkıyla görür." (Hûd suresi, 112. ayet)

8. I. ve bi'l-kaderi
II. kemâ salleyte alâ İbrâhîme
III. Ve lâ ilâhe ğayrük

Numaralanmış yerlerde hangi dualardan bölümler yer almaktadır?

	I	II	III
A)	Amentü	Salli	Sübhanেকে
B)	Sübhanেকে	Salli	Amentü
C)	Amentü	Sübhanেকে	Salli
D)	Sübhanেকে	Amentü	Salli

9. Mekkeli müşrikler, Müslümanların hicretinden rahatsızlık duydu ve Müslümanlara çeşitli tehditlerde bulundu. Bunun üzerine her iki grup arasında savaşlar meydana geldi.

Aşağıdakilerden hangisi bu savaşlardan biri değildir?

- A) Bedir
B) Uhut
C) Hendek
D) Mute

10. Aşağıdakilerden hangisi beden temizliği kapsamında değerlendirilmez?

- A) Banyo yapmak
B) Dişleri fırçalamak
C) Tırnakları kesmek
D) Bulaşıkları yıkamak

FEN BİLGİSİ

1.**K**....'ın sıcaklık farkı, yağmur ve rüzgâr gibi etkenlerle aşınıp parçalanmasıyla**L**.... oluşur.**L**.....ufalanması ile**M**.....,**M**..... ufalanmasıyla da**N**..... meydana gelir.

Parçada harflerle sembol edilen yerlere aşağıdaki kavramlardan hangileri getirilir ise parça doğru tamamlanmış olur?

	K	L	M	N
A)	Kayaç	Kaya	Taş	Kum
B)	Kaya	Kayaç	Taş	Kum
C)	Kaya	Taş	Kayaç	Kum
D)	Kaya	Taş	Kum	Kayaç

2. Ahmet fen bilimleri ödevinde bitkisel ve hayvansal kaynaklı besinlerin sunumu için aşağıdaki çalışmayı yapıyor.



Ahmet'in hazırladığı sunum için aşağıda yapılan yorumlardan hangisi doğrudur?

- A) Ahmet sunumunu hatasız hazırlamıştır.
 B) Ahmet sunumunda pekmez ve kahvenin yerini değiştirmelidir.
 C) Ahmet sunumunda bal ve yoğurdun yerini değiştirmelidir.
 D) Ahmet sunumunda bal ve kahvenin yerini değiştirmelidir.

3. Vücudumuzun enerji deposudur.

- Canlılarda ısı yalıtımını sağlar.
- Ceviz, fındık, zeytin ve ayçiçeğinde bol miktarda bulunur.

Parçada bazı özellikleri verilen besin içeriği aşağıdakilerden hangisidir?

- A) Protein
 B) Yağ
 C) Vitamin
 D) Karbonhidrat

4. Demir, nikel, kobalt gibi cisimleri çeken maddelere mıknatıs denir.

Aşağıda mıknatıslarla ilgili verilen bilgilerden hangisi yanlıştır?

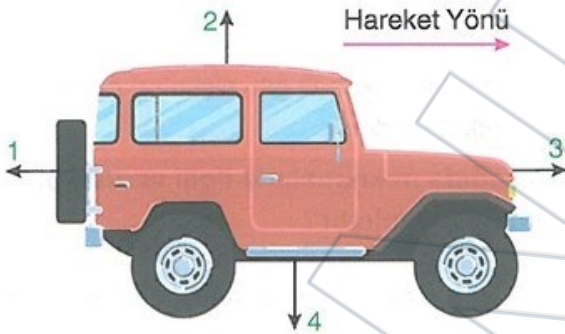
- A) Doğal mıknatıslara manyetik adı verilir.
 B) Bir mıknatıs ikiye bölünerek tek kutuplu mıknatıs elde edilebilir.
 C) Mıknatısın çekim kuvvetinin en fazla olduğu uç kısımlarına kutup denir.
 D) Magnetler mıknatıs özelliği gösteren cisimlerdir.

5. Kuvvet uygulandığında şekli değişen , kuvvet etkisi ortadan kalktıktan sonra eski şekline dönen cisimlere esnek cisimler denir.

Buna göre; sünger , silgi , bakır tel , yay ve oyun hamuru maddelerinden hangileri esnek cisimlere örnek verilebilir?

- A) Silgi , yay , oyun hamuru
B) Sünger , silgi , bakır tel
C) Bakır tel , yay , oyun hamuru
D) Sünger , silgi , yay

6.



Görseldeki hareket yönü verilen araba ile ilgili olarak;

- I. Arabayı durdurmak için 1 yönünde itme kuvveti uygulanmalıdır
II. Arabayı hızlandırmak için 3 yönünde çekme kuvveti uygulanmalıdır.
III. Arabayı durdurmak için 2 yönünde çekme kuvveti uygulanmalıdır.
IV. Arabayı hızlandırmak için 4 yönünde kuvvet uygulanmalıdır.

İfadelerinden hangileri doğrudur?

- A) I ve II
B) III ve IV
C) I ve III
D) II ve IV

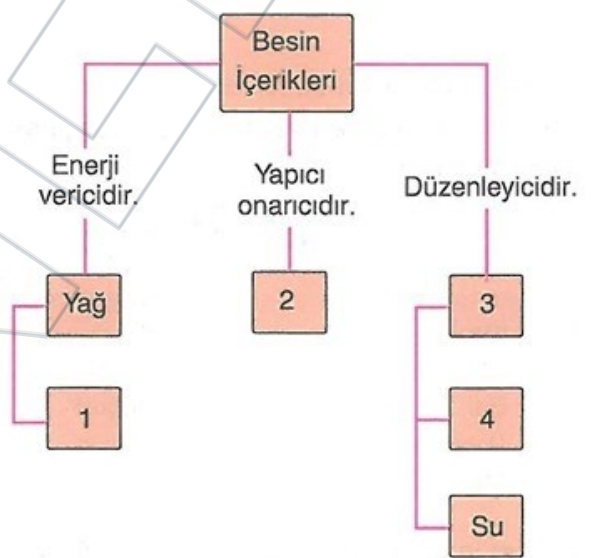
7.

Fen bilimleri dersinde öğretmen 4 deney tüpünün içine ayrı ayrı bir miktar nohut , ekmek , ceviz ve tereyağı katarak deney tüplerinin ağzını sıkıca jelatinle kapatıyor. Tüpleri bir süre ısırtı ocağında ısıtarak öğrencilerine jelatinde oluşan su damlacıklarını gösteriyor.

Öğretmenin yaptığı bu etkinliğin amacı aşağıdakilerden hangisidir?

- A) Yiyeceklerimizi ısıtmadan yememeliyiz.
B) Tüm besinlerde su bulunur.
C) Besinlerin ısıtılması, sağladığı yararı azaltır.
D) Besinlerin ısıtılmadan yenmesi sağlığa zararlıdır.

8.



Görselde besin içerikleri görevlerine göre gruplandırılmıştır.

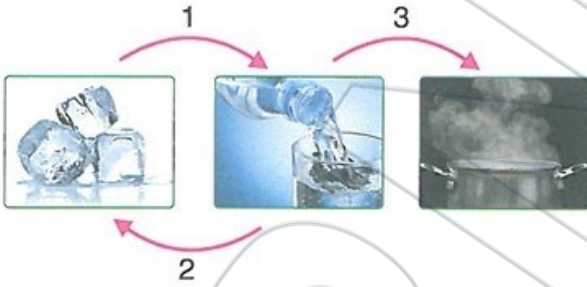
Görselle ilgili aşağıdaki yorumlardan hangisi doğrudur?

- A) 1 kutucuğuna vitamin yazılmalıdır.
B) 3 kutucuğuna karbonhidrat yazılmalıdır.
C) 2 kutucuğuna protein yazılmalıdır.
D) 4 kutucuğuna yağ yazılmalıdır.

9. Çocuğun elindeki kartopu (ısı alır/ ısı verir)
 Çayın içindeki kaşık (ısı alır/ ısı verir)
 Limonata içindeki buz (ısı alır/ ısı verir)
 Yukarıda verilen cümlelerdeki altı çizili kelimeler dikkate alınarak cümleler tamamlanıyor.
Buna göre parantez içindeki ısı alıp verme durumları sırasıyla aşağıdaki seçeneklerin hangisinde doğru gösterilmiştir?

- A) ısı alır – ısı alır – ısı alır
 B) ısı alır – ısı alır – ısı verir
 C) ısı verir – ısı alır – ısı verir
 D) ısı verir – ısı verir – ısı alır

10.



Görselde maddenin hâl değişimi olaylarından bazıları 1, 2 ve 3 rakamları ile gösterilmiştir.

Buna göre;

- I. 1 olayında madde akışkanlık özelliği kazanır.
 II. 2 olayında madde ısı kaybeder.
 III. 3 olayında madde ısı kaybeder.
 IV. 2 olayında madde belirli bir şekle sahip olur.

İfadelerinden hangileri doğrudur?

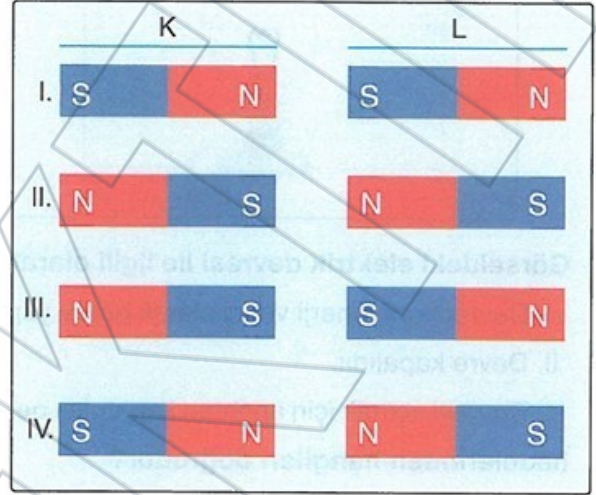
- A) I ve II
 B) III ve IV
 C) I, II ve IV
 D) II, III ve IV

11.



Şekildeki çubuk mıknatıs, K ve L mıknatıslarının etkisi ile bulunduğu yerde sabit olarak duruyor.

Buna göre K ve L mıknatıslarının konumları:



durumlarından hangileri gibi olabilir?

- A) I ve II
 B) II ve III
 C) I ve IV
 D) III ve IV

12. Kütlesi ve hacmi olan her şeye madde denir.

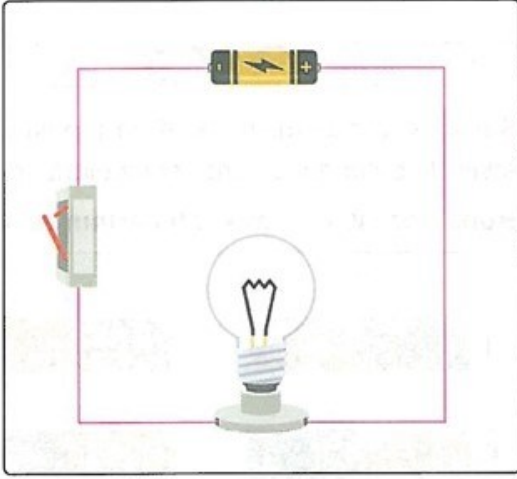
Buna göre;

- I. Hava
 II. Işık
 III. Ses

Kavramlarından hangileri maddeye örnek verilebilir?

- A) Yalnız I
 B) I ve II
 C) I ve III
 D) I, II ve III

13.



Görseldeki elektrik devresi ile ilgili olarak;

- I. Devrede pil, enerji verici olarak görev yapar.
- II. Devre kapalıdır.
- III. Devreyi açmak için anahtarı kapatmak gerekir.

ifadelerinden hangileri doğrudur?

- A) I ve II
- B) II ve III
- C) I ve III
- D) I, II ve III

14. • Lewis Howard Latimer'in icat ettiği aydınlatma aracıdır.
- Thomas Edison'un icat ettiği aydınlatma aracıdır.
 - Ateşin kullanılmaya başlanmasından sonra insanların, kile şekil verip ateşte pişirdikten sonra içine hayvansal yağlar koyarak elde ettikleri aydınlatma aracıdır.

Yukarıda bazı aydınlatma araçlarının özelliği hakkında bilgiler verilmiştir.

Bu açıklamada aşağıda verilen aydınlatma araçlarından hangisinin özelliği hakkında bilgi verilmemiştir?

- A) Meşale
- B) Kandil
- C) Ampul
- D) Karbon flamanlı ampul

15. Aşağıdaki görselde bazı ses teknolojisi aletleri verilmiştir.



Kasetçalar



Fonograf



Telefon



Gramofon



Telsiz

Görselde verilen ses teknolojisi aletlerinin tarihsel gelişim sıralaması aşağıdaki seçeneklerin hangisinde doğru verilmiştir?

- A) Fonograf – Gramofon – Telsiz – Telefon – Kasetçalar
- B) Telefon – Fonograf – Gramofon – Telsiz – Kasetçalar
- C) Telefon – Gramofon – Fonograf – Telsiz – Kasetçalar
- D) Gramofon – Fonograf – Kasetçalar – Telsiz – Telefon

SOSYAL BİLGİLER - GENEL YETENEK

1. • Millî Mücadelede silah ve cephane taşınan İnebolu'dan Ankara'ya uzanan yola denir.
- Şahin Bey'in savunması esnasında şehit düştüğü şehirdir.
- Sütçü İmam'ın kadınları taciz eden Fransız askerleri öldürdüğü şehirdir.

Verilen bilgiler aşağıdakilerle eşleştirildiğinde hangi seçenek açıkta kalır?

- A) Maraş B) Urfa
C) Antep D) İstiklal

3.



Zeynep'in yaptığı bu konuşmanın hangi cümlesi ilgi alanlarıyla ilişkilendirilemez?

- A) I B) II C) III D) IV

2. Sabahleyin güneşin doğduğu yöne doğru yüzünü dönen Ayşe kollarını açarak yönleri bulmaya çalışmaktadır.

Buna göre Ayşe'nin sol kolu hangi yönü gösterir?

- A) Kuzey B) Güney
C) Doğu D) Batı

4. Dedesiyle aile tarihini yazmak amacıyla sözlü tarih çalışması yapan Kenan aşağıdaki sorulardan hangisine yanıt bulamaz?

- A) Soyadımız nereden geliyor?
B) Babaannemle ne zaman evlendiniz?
C) Geçiminizi nasıl sağlıyordunuz?
D) Sen askerdeyken ülkemizin dış politikası nasıldı?

5. 4A sınıfı öğrencilerinin aşağıdaki davranışlarından hangisi sorumluluk ile ilişkilendirilemez?

- A) Kıyafetini değiştiren Salih'in kirli kıyafetini çamaşır sepetine atması
- B) Zeynep'in her sabah yatağını toplaması
- C) Kenan'ın serviste yüksek sesle konuşması
- D) Sude'nin bahçedeki çöpleri toplaması

6.



Dört yılda bir yapılan dünyanın en büyük spor organizasyonu olan olimpiyatlar beyaz zemin üzerine iç içe geçmiş beş farklı renkli halka sembolize edilir.

Beş kıtayı sembolize eden halkaların iç içe geçmiş hâli aşağıdakilerden hangisini simgeler?

- A) Dayanışmayı
- B) Rekabeti
- C) Tartışmayı
- D) Ekonomiyi

7. Aşağıdaki teknolojik ürünlerin hangisi sağlık alanıyla ilgili değildir?



Mr



Tansiyon Aleti



Ultrason Cihazı



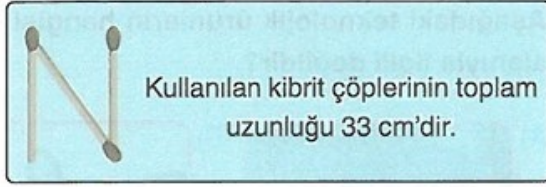
Akıllı Saat

8. Antalya'da yaşayan Kemal, kuzeni Nazlı'ya kendi çektiği fotoğrafları göndermiştir.

Buna göre çekilen fotoğraflardan hangisinin Antalya'ya özgü bir ekonomik faaliyet olduğu savunulamaz?



9.



N harfini oluşturan kibrit çöplerinin toplam uzunluğu 33 cm olarak ölçülmüştür.

Buna göre KAL kelimesini oluşturan kibrit çöplerinin toplam uzunluğu kaç cm olur ?

- A) 99 B) 88 C) 77 D) 66

10.



Yukarıda verilen üçgenler içerisine yazılan sayılar belirli bir kurala göre yazılmıştır.


Buna göre A kaçtır ?

- A) 7 B) 9 C) 10 D) 13

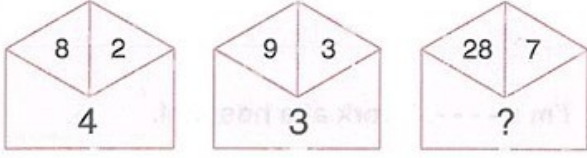
11. 1991 yılında Sovyetler Birliği'nin dağılmasıyla bağımsızlığına kavuşan Türk cumhuriyetleri arasında aşağıdakilerden hangisi sayılamaz?

- A)  Azerbaijan
- B)  Özbekistan
- C)  Kuzey Kıbrıs
- D)  Türkmenistan

12. Aşağıdaki yön bulma yöntemlerinden hangisi en son teknoloji ürünüdür?

- A)  Pusula
- B)  Ağaçlar
- C)  Karınca Yuvası
- D)  Navigasyon

13.



Yukarıda verilen şekiller içerisinde yer alan sayılar arasında belirli bir kural vardır.

Buna göre ? yerine gelmesi gereken sayı kaçtır ?

- A) 3 B) 4 C) 5 D) 7

15.



Yukarıda birbirine yapışık şekilde olan altıgenler içerisinde yazılan sayılar arasında bir kural vardır.

Buna göre "?" yerine hangi sayı gelmelidir?

- A) 3 B) 5 C) 7 D) 8

14. Başlangıç



Bitiş



Yukarıda verilen kare ve üçgenin çevre uzunlukları birbirine eşittir.

Karenin bir kenar uzunluğu 3 cm olduğuna göre, karıncanın yürüyeceği yol kaç cm'dir ?

- A) 3 B) 5 C) 7 D) 9

İNGİLİZCE

1 – 4. sorularda boş bırakılan yere uygun gelen seçeneği işaretleyiniz

1. Tom : ----?

Ann : It's five o'clock.

- A) What time is it
- B) What about an apple
- C) What do you do in the afternoon
- D) What does she look like

2.

It's sunny outside.
Can I borrow your ----?



- A) coat
- B) socks
- C) sunglasses
- D) dress

3. I'm a ----. I work at a hospital.

- A) teacher
- B) singer
- C) doctor
- D) pilot

4. Brad : What is your favourite drink?

Mark : It's ----.

- A) butter
- B) salad
- C) marmalade
- D) lemonade

5 – 6. sorularda verilen görseli ifade eden seçeneği işaretleyiniz.

5.



- A) Open the door.
- B) Be quiet.
- C) Sit down.
- D) Go back your place.

6.



- A) This is her bike but she can't ride it
- B) She can speak English but she can't speak French.
- C) She can play the guitar and the piano.
- D) This is her camera and she can take photos with it.

7.



Where is the glass?

- A) It's behind the flowers.
- B) It's near the paper towel.
- C) It's in front of the bottle.
- D) It's in the vase.

8.



Country	Nationality
Japan	(1) - - - -
(2) - - - -	British
Turkey	(3) - - - -

Tabloyu doğru şekilde tamamlayan seçeneği işaretleyiniz.

	1	2	3
A)	Japanese	Britain	Turkish
B)	Japanese	British	Turkey
C)	Japan	Britain	Turkish
D)	Japan	British	Turkey

9. Semih likes playing marbles, doing puzzles and swimming but he dislikes watching cartoons.

Seçeneklerde verilenlerden hangisi Semih olamaz?



10.



What is the weather like?

- A) It's windy.
 B) It's snowy and cold.
 C) It's rainy.
 D) It's sunny and hot.